

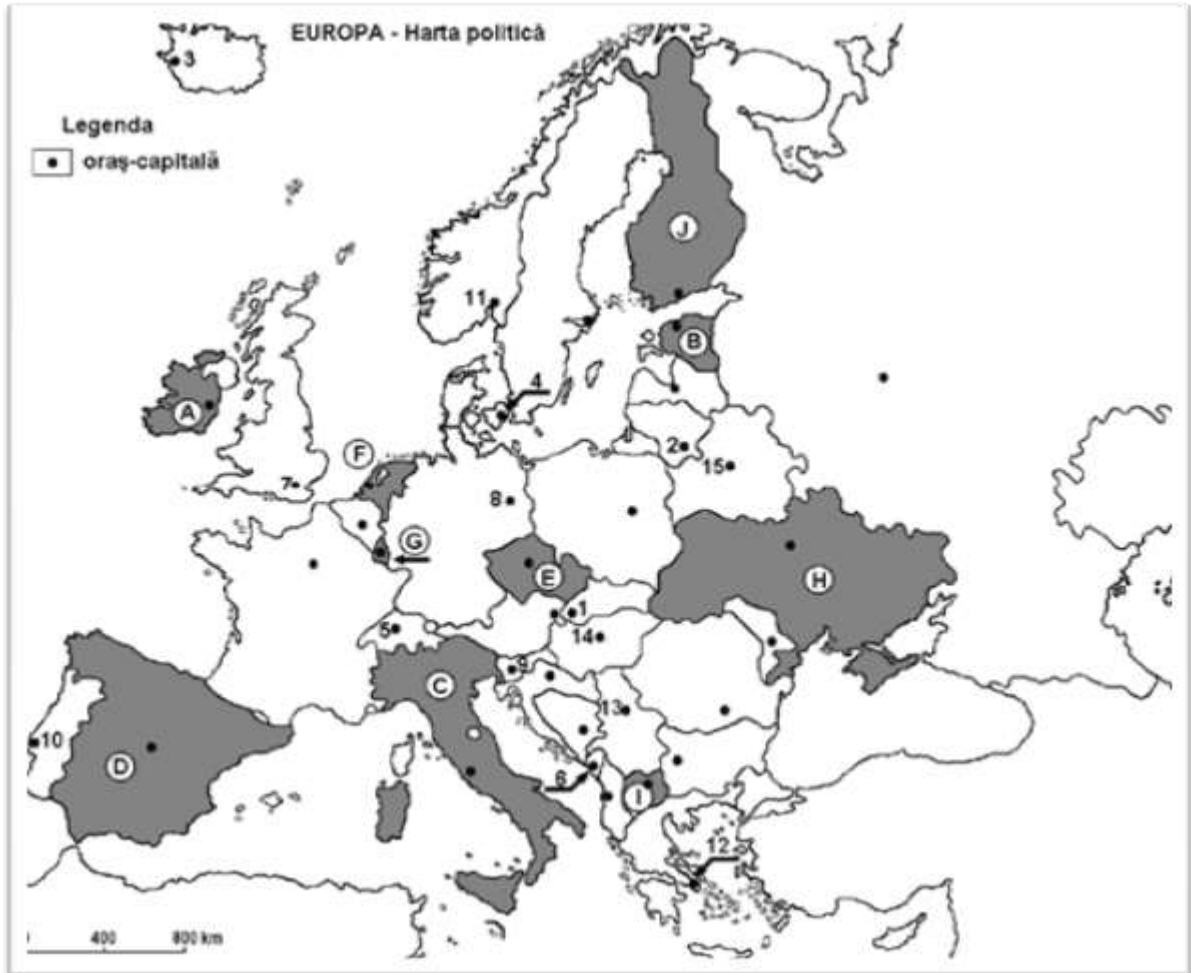
Test de antrenament pentru Examenul de bacalaureat național
Proba E. d) Geografie
Europa – România – Uniunea Europeană

prof. Dragomir Anca Iuliana
Școala Gimnazială Nr.29 *Mihai Viteazul*, Constanța

- Toate subiectele sunt obligatorii. Se acordă 10 puncte din oficiu.
- Timpul de lucru efectiv este de 3 ore.

SUBIECTUL I

(30 puncte)



Harta de mai sus se referă la subiectul I A - E. Pe hartă sunt marcate state cu litere și orașe-capitală cu numere

A. Precizați:

1. numele statului marcat, pe hartă, cu litera B;
2. numele orașului-capitală marcat, pe hartă, cu numărul 9.

B. Scrieți, pe foaia de examen, răspunsurile corecte care completează afirmațiile de mai jos:

4 puncte

1. Skopje este capitala statului marcat, pe hartă, cu litera...
2. Podișul Boemiei se găsește pe teritoriul statului marcat, pe hartă, cu litera...
3. Insulele Baleare și Canare aparțin statului marcat, pe hartă, cu litera...

6 puncte

C. Scrieți, pe foaia de examen, litera corespunzătoare răspunsului corect pentru fiecare dintre afirmațiile de mai jos:

1. Solurile de tip terra rosa sunt specifice pe teritoriul statului marcat, pe hartă, cu litera:
a. A b. B c. D d. G
2. Vulcani activi există în statul al cărui oraș-capitală este marcat, pe hartă, cu numărul:
a. 3 b. 11 c. 7 d. 6

2 puncte

2 puncte

3. Fluviul Pad traversează teritoriul statului, marcat, pe hartă, cu litera:
 - a. A b. H c. D d. C

2 puncte
4. Este situat în Peninsula Balcanică statul marcat, pe hartă, cu litera:
 - a. I b. J c. C d. A

2 puncte
5. Lacul Balaton se află pe teritoriul statului al cărui oraș-capitală este marcat, pe hartă, cu numărul:
 - a. 13 b. 10 c. 14 d. 12

2 puncte

10 puncte

D. Precizați trei deosebiri între clima statului marcat, pe hartă, cu litera D și clima statului marcat cu litera H.

Nota 1: Deosebirile se pot referi la oricare dintre următoarele elemente de climă: factori genetici, tip de climă, temperaturi medii anuale/vara/iarna, amplitudine termică, precipitații medii anuale/vara/iarna, vânturi cu frecvență ridicată.

Nota 2: Punctajul complet va fi acordat numai dacă deosebirile vor fi prezentate comparativ și nu separat.

6 puncte

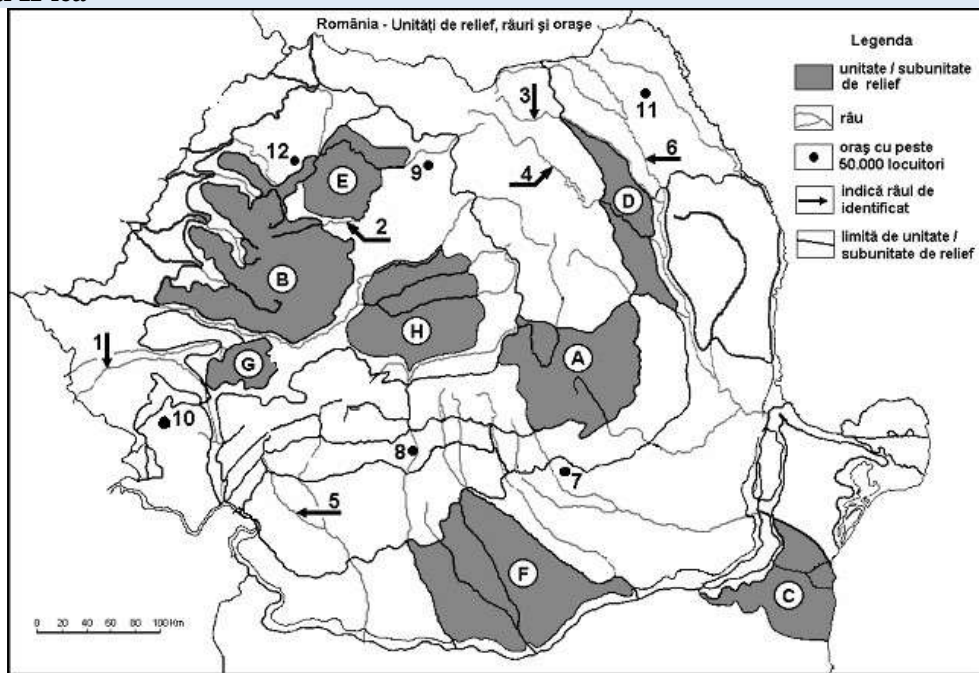
E. 1. Numiți două unități montane cu vechime diferită de pe teritoriul Germaniei.

2. Precizați numele orogenezei în timpul căreia s-a născut fiecare dintre munții menționați la punctul anterior.

4 puncte

SUBIECTUL al II-lea

(30 puncte)



Harta de mai sus se referă la subiectul II: A-D. Pe hartă sunt marcate unități de relief (sau subunități ale acestora) cu litere, râuri cu numere de la 1 la 6 și orașe de la 7 la 12.

A. Precizați:

1. Numele orașului marcat pe hartă cu numărul 7;
2. Numele râurilor marcate, pe hartă, cu numerele 4 și 5.

4 puncte

B. Scrieți, pe foaia de examen, răspunsurile corecte care completează propozițiile de mai jos:

1. Depresiunile-golf se întâlnesc în unitatea de relief marcată, pe hartă, cu litera...
2. Orașul Alexandria se găsește în unitatea de relief marcată, pe hartă, cu litera...
3. Orașul reședință al județului Sălaj este cel marcat, pe hartă, cu numărul...

6 puncte

C. Scrieți, pe foaia de examen, litera corespunzătoare răspunsului corect pentru fiecare dintre afirmațiile de mai jos:

1. Relieful pe cute diapire se întâlnește în unitatea de relief marcată, pe hartă, cu litera:
 - a. B b. D c. A d. H.

2 puncte
2. Influențe climatice de tranziție se resimt în unitatea de relief marcat, pe hartă, cu litera:
 - a. B b. D c. C d. F.

2 puncte

3. Este situat într-o unitate de relief montană orașul marcat, pe hartă, cu numărul:
a. 8 b. 11 c. 12 d. 10. 2 puncte
4. Din subsolul unității de relief marcate, pe hartă, cu litera G se exploatează:
a. petrol și gaze b. gaz metan c. bauxită d. marmură. 2 puncte
5. Lacul hidroenergetic Izvorul Muntelui este situat pe râul marcat, pe hartă, cu numărul:
a. 6 b. 4 c. 3 d. 2. 2 puncte

10 puncte

D. Precizați trei deosebiri între relieful unității marcate, pe harta de mai sus, cu litera B și relieful unității marcate, pe harta de mai sus, cu litera C.

Nota 1: Deosebirile se pot referi la oricare dintre următoarele aspecte ale reliefului: mod de formare, tipuri de roci, distribuția spațială a altitudinilor, gradul de fragmentare, orientarea culmilor și văilor principale, tipuri genetice de relief, alte aspecte specifice ale reliefului.

Nota 2: Punctajul complet va fi acordat numai dacă deosebirile vor fi prezentate comparativ și nu separat.

6 puncte

E. Explicați:

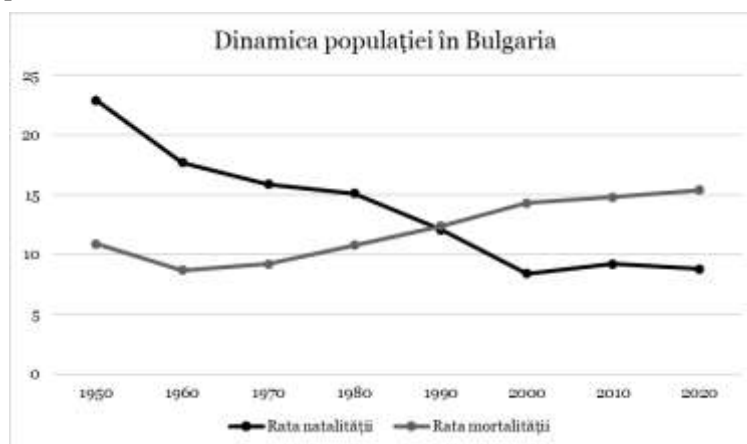
1. Faptul că polul ploilor din România se află în Munții Apuseni, deși aceștia nu au altitudinea cea mai mare;
2. Prezența peșterilor în Podișul Casimcei deși nu este o unitate montană.

4 puncte

SUBIECTUL al III-lea

(30 puncte)

Reprezentarea grafică de mai jos se referă la subiectul III A și B și reprezintă evoluția ratelor natalității și mortalității în Bulgaria (exprimată în %).



A. Precizați:

1. Valoarea maximă a ratei natalității și anul în care se înregistrează;
2. Valoarea minimă a ratei mortalității și anul în care se înregistrează.

4 puncte

B. Precizați:

1. Perioada de timp în care sporul natural a avut valori pozitive.
2. Valoarea sporului natural în anul 2020.
3. O cauză a schimbării valorilor sporului natural după 1990.

6 puncte

C. Pentru *Ucraina*, precizați:

1. un podiș și o câmpie de pe teritoriul acestui stat;
2. un tip de climă și vegetația specifică acestuia;
3. două fluvii ce curg pe teritoriul acestui stat;
4. o resursă de subsol și o ramură industrială dezvoltată pe baza acesteia;
5. două orașe-port;

10 puncte

D. Aveți în vedere următorul tabel:

Grupa de vârstă	Islanda	Germania	Ungaria	Moldova	Spania
Tineri (0 – 14 ani)	20,31 %	12,98 %	14,54 %	18,31 %	15,2 %
Adulți (15 – 64 ani)	64,22 %	64,12 %	64,77 %	67,66 %	66,31%
Vârstnici (65 ani și peste)	15,47 %	22,99 %	20,69 %	14,03 %	18,49 %

1. Calculați cu cât este mai mare grupa tinerilor în Moldova față de Spania.
2. Calculați cu cât este mai mici grupa vârstnicilor în Islanda față de Ungaria.
3. Precizați care dintre state are tendința cea mai mare de îmbătrânire.

6 puncte

E. Explicați de ce în Polonia predomină pădurile în timp ce, la aceeași latitudine, în Rusia predomină stepa și silvostepa.

4 puncte