

**Test de antrenament pentru Examenul de bacalaureat național**  
**Proba E. d) Geografie**  
**Europa – România – Uniunea Europeană**

prof. dr. Popescu Polixenia Gabriela  
Colegiul National Pedagogic *Constantin Brătescu*, din Constanța

- Toate subiectele sunt obligatorii. Se acordă 10 puncte din oficiu.
- Timpul de lucru efectiv este de 3 ore.

**SUBIECTUL I**

**(30 puncte)**



Harta de mai sus se referă la Subiectul I A-C. Pe hartă sunt marcate statele cu litere și orașele-capitală cu numere.

A. Precizați:

1. numele statului marcat, pe hartă, cu litera G
2. numele orașului capitală marcat, pe hartă, cu numărul 8

4 puncte

B. Scrieți, pe foaia de examen, răspunsurile corecte care completează afirmațiile de mai jos:

1. Orașul capitală Vilnius este marcat, pe hartă, cu numărul . . . .
2. Fluviul Tibru traversează orașul capitală marcat, pe hartă, cu numărul . . .
3. Capitala statului marcat, pe hartă, cu litera D se numește. . .

6 puncte

C. Scrieți, pe foaia de examen, litera corespunzătoare răspunsului corect pentru fiecare dintre afirmațiile de mai jos:

1. Este situat pe Insula Zealand, orașul capitală marcat, pe hartă, cu numărul:  
a. 1      b.5      c. 11      d.12      2 puncte
2. Stejarul de plută se cultivă pe teritoriul statului este marcat, pe hartă, cu litera:  
a. A      b. C      c. G      d. H      2 puncte
3. Relieful vulcanic și cu gheizere se întâlnește în statul marcat, pe harta, cu litera:  
a. B      b. E      c.J      d. L      2 puncte
4. Statele continentale sunt marcate, pe hartă, cu literele:  
a. D și H      b.D și E      c. F și G      d.C și N      2 puncte
5. Lacurile Mazurieni se află pe teritoriul statului a cărui capitală este orașul marcat, pe hartă, cu numărul:  
a. 1      b.3      c.6      d.10      2 puncte

D. Precizați trei deosebiri între clima Peninsulei Balcanice și clima Peninsulei Iutlanda.

*Nota 1: Deosebirile se pot referi la oricare dintre următoarele elemente de climă: factori genetici, tip de climă, temperaturi medii anuale/ vara/ iarna, amplitudine termică anuală, precipitații medii anuale/ vara/ iarna, vânturi predominante*

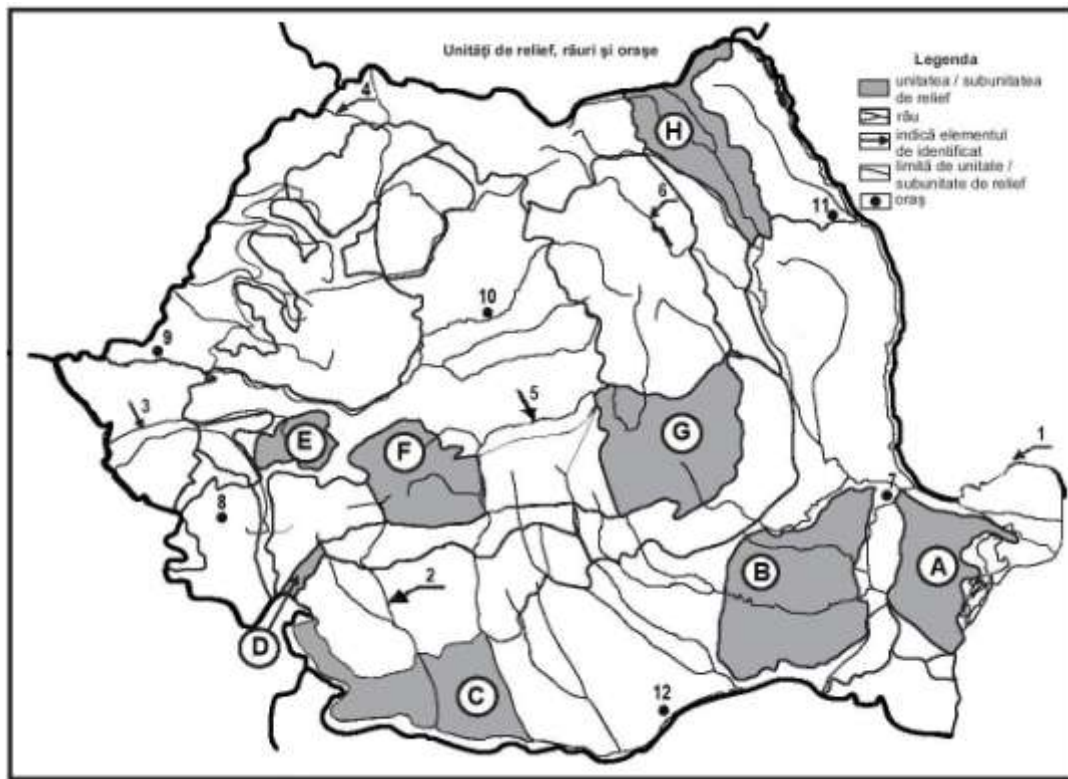
*Nota 2: Punctajul complet va fi acordat numai dacă deosebirile vor fi prezentate comparativ și nu separat.*

6 puncte

E. 1. Precizați două cauze ce explică diferența între densitatea populației din statul marcat pe hartă cu litera C și statul marcat cu litera G.

2. Prezentați două cauze ce explică faptul că statul J produce peste 100% energie electrică din surse regenerabile (25% energie geotermală și 75% hidroelectrică).

4 puncte



Harta de mai sus se referă la subiectul II A-C. Pe hartă sunt marcate unități de relief cu litere, râuri cu numere de la 1 la 6 și orașe cu numere de la 7 la 12.

A. Precizați:

1. numele orașului marcat, pe hartă, cu numărul 12 ;
  2. numele râului marcat, pe hartă, cu numărul 3 .
- 4 puncte

B. Scrieți, pe foaia de examen, răspunsurile corecte care completează afirmațiile de mai jos:

- 1 Orașul marcat pe hartă, cu numărul 8 este reședința județului . . . .
2. Brațul Dunării marcat, pe hartă, cu numărul 1 se numește. . . .
3. Cele mai multe forme de relief glaciare se află în unitatea de relief marcată, pe hartă, cu litera... 6 puncte

C. Scrieți, pe foaia de examen, litera corespunzătoare răspunsului corect pentru fiecare dintre afirmațiile de mai jos:

1. Orașul-municipiu cu peste 300.000 locuitori este marcat, pe hartă, cu numărul:  
a. 7    b. 9    c. 10    d. 11    2 puncte
2. Este alcătuită, în exclusivitate din fliș, unitatea de relief marcată, pe hartă, cu litera:  
a. A    b. E    c. F    d. G    2 puncte
3. Influențe climatice continentale se manifestă în unitățile de relief marcate, pe hartă, cu literele:  
a. A și B    b. B și C    c. B și H    d. C și G    2 puncte
4. Lacul Izvorul Muntelui a fost realizat pe cursul râului marcat, pe hartă, cu numărul:  
a. 2    b. 4    c. 5    d. 6    2 puncte
5. O trăsătură comună subunităților de relief notate, pe hartă, cu literele B și C este:  
a. același râu limită    b. relief- dune de nisip    c. influența climatică    d. înclinarea    2 puncte

D. Precizați o asemănare și două deosebiri între relieful unității marcate, pe hartă, cu litera D și relieful unității marcate, pe hartă, cu litera H.

*Nota 1: Deosebirile și asemănarea se pot referi la oricare dintre următoarele aspecte ale reliefului: mod de formare, tipuri de roci pe care s-a format relieful, altitudini, fragmentare, tipuri de relief, orientarea culmilor și a văilor principale, dispunerea depresiunilor, alte aspecte specifice ale reliefului.*

*Nota 2: Punctajul complet va fi acordat numai dacă asemănarea și cele două deosebiri vor fi prezentate comparativ și nu separat.*

6 puncte

E.1. Precizați un argument care să explice importanța fondului forestier pentru România, în condițiile în care acesta reprezintă 27,6% din suprafața țării (cf. INS/ an 2019).

2. Prezentați o cauză care să explice existența celor două straturi de apă (de suprafață și de adâncime) din bazinul Mării Negre.

4 puncte

### SUBIECTUL al III-lea

(30 puncte)

Cele două reprezentări grafice de mai jos se referă la subiectul III A- B și prezintă mediile termice lunare pentru două orașe din Europa, situate în vestul și, respectiv, în estul continentului:

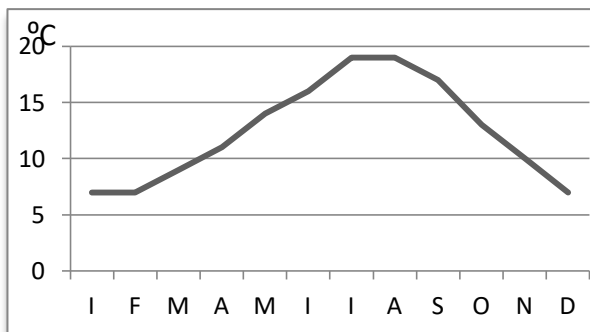


Diagrama 1

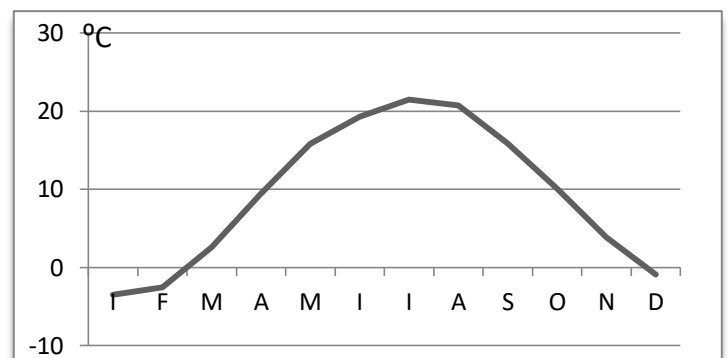


Diagrama 2

A: Precizați:

1. Valoarea minimă și maximă a temperaturii medii lunare înregistrate pe Diagrama 1.
2. Valoarea minimă a temperaturii medii lunare marcată pe Diagrama 2 și luna în care se înregistrează..

4 puncte

B: Precizați:

1. amplitudinea termică anuală pentru localitatea cu medii termice lunare din Diagrama 1
2. amplitudinea termică anuală pentru localitatea cu medii termice lunare din Diagrama 2
3. o influența climatică pentru fiecare localitate

6 puncte

C: Pentru *Republica Moldova*, precizați:

1. două unități de relief
2. un râu/ lac
3. un tip de vegetație
4. doua orașe, altele decât orașul capitală
5. o cultură agricolă tradițională
6. două ramuri ale industriei
7. un aeroport internațional

10 puncte

D: Comparați cadrul natural al Bulgariei cu cel al Ungariei, prezentând o asemănare și două deosebiri.

*Nota 1: Asemănarea și deosebirile se pot referi la caracteristicile reliefului, climei, rețelei hidrografice, vegetației și solurilor.*

*Nota 2: Punctajul complet va fi acordat numai dacă asemănarea și deosebirile vor fi prezentate comparativ și nu separat.*

6 puncte

E. Precizați două argumente care explică faptul că aeroportul Heathrow (Londra) are cel mai mare flux de pasageri din Europa (și al doilea nod aerian internațional din lume), cu un număr de 80 milioane călători care aterizează/ decolează (date: anul 2018).

4 puncte